

ЭКЗАМЕН ОБЩЕСТВОЗНАНИЕ МАУ (ДЕМОНСТРАЦИОННЫЙ ВАРИАНТ)

Задания на экзамене проверяют знание пяти тематических блоков курса Обществознание:

Человек в обществе. Духовная культура / Введение в социальную психологию.

Введение в социальную философию

Экономическая жизнь общества / Введение в экономику

Социальная сфера / Введение в социологию

Политическая сфера / Введение в политологию

Правовое регулирование общественных отношений в Российской Федерации
/ Введение в правоведение

В экзамене встретятся задания двух типов: на выбор правильных вариантов из предложенных и на установление соответствий. Каждое правильно выполненное задание оценивается – 4 баллами. Для того, чтобы задание считалось выполненным правильно в заданиях с несколькими ответами, должны быть верно указаны все ответы, а также не должен быть указан ни один неверный ответ. Неверное выполненное задание оценивается – 0 баллов.

Время выполнения теста 120 минут.

Демонстрационный вариант.

1. Прочитайте перечень терминов. Все они, за исключением двух, относятся к признакам государства любого типа.

1) монополия на правотворчество; 2) суверенитет; 3) реализация на практике прав и свобод человека; 4) публичная власть; 5) федеративное устройство; 6) наличие территории;

Найдите два термина, «выпадающих» из общего ряда, и запишите в таблицу цифры, под которыми они указаны.

Ответ:

Правильный ответ: 3, 5

2. В государстве Z прошли парламентские выборы. Какие из перечисленных признаков позволяют сделать вывод о том, что выборы проходили по пропорциональной избирательной системе? Запишите все цифры, под которыми они указаны.

- 1) предоставление права голоса всем гражданам, достигшим возраста 21 год
- 2) создание единого национального избирательного округа
- 3) голосование по одномандатным округам
- 4) возможность выдвижения независимых беспартийных кандидатов
- 5) голосование прежде всего за программу политической партии

б) зависимость количества депутатских мандатов, полученных партией, от количества голосов, поданных за неё на выборах

Ответ:

Правильный ответ: 2, 5, 6

3. Установите соответствие и впишите ответ.

Установите соответствие между вопросами и субъектами государственной власти Российской Федерации, к ведению которых эти вопросы относятся: к каждой позиции, обозначенной буквой, подберите соответствующую позицию, обозначенную цифрой.

ВОПРОСЫ

А) адвокатура и нотариат

Б) федеральный бюджет

В) общие вопросы воспитания, образования, науки

Г) внешняя политика и международные отношения Российской Федерации

Д) государственные награды Российской Федерации

СУБЪЕКТЫ ГОСУДАРСТВЕННОЙ ВЛАСТИ РОССИЙСКОЙ ФЕДЕРАЦИИ

1) только федеральный центр

2) совместно федеральный центр и субъекты Российской Федерации

Запишите в таблицу выбранные цифры под соответствующими буквами.

Ответ:

А	Б	В	Г	Д

Правильный ответ:

А	Б	В	Г	Д
2	1	2	1	1

4. Прочитайте перечень характеристик. Все они, за исключением двух, относятся к признакам только демократического режима.

1) право на установление и взимание налогов; 2) открытость деятельности политических институтов; 3) свободные выборы; 4) независимость во внутренней и внешней политике; 5) реальные гарантии прав и свобод человека; 6) реализация на практике принципа разделения властей;

Найдите две характеристики, «выпадающие» из общего ряда, и запишите

в таблицу цифры, под которыми они указаны.

Ответ: ...

Правильный ответ: 1, 4

5. Установите соответствие между полномочиями и субъектами государственной власти Российской Федерации, реализующими эти полномочия: к каждой позиции, обозначенной буквой, подберите соответствующую позицию, обозначенную цифрой.

ПОЛНОМОЧИЯ

- А) осуществление мер по поддержке добровольческой (волонтерской) деятельности
- Б) осуществление управления федеральной собственностью
- В) осуществление помилования
- Г) обеспечение функционирования системы социальной защиты инвалидов
- Д) объявление амнистии

СУБЪЕКТЫ ГОСУДАРСТВЕННОЙ ВЛАСТИ РОССИЙСКОЙ ФЕДЕРАЦИИ

- 1) Государственная Дума
- 2) Правительство Российской Федерации
- 3) Президент Российской Федерации

Запишите в таблицу выбранные цифры под соответствующими буквами.

Ответ:

А	Б	В	Г	Д

Правильный ответ:

А	Б	В	Г	Д
2	2	3	2	1

6. Установите соответствие между формами и этапами (ступенями) познания: к каждой позиции, обозначенной буквой, подберите соответствующую позицию, обозначенную цифрой.

ФОРМЫ ПОЗНАНИЯ

- А) понятие
- Б) ощущение
- В) представление
- Г) умозаключение

Д) восприятие

ЭТАПЫ (СТУПЕНИ) ПОЗНАНИЯ

- 1) рациональное
- 2) чувственное

Запишите в таблицу выбранные цифры под соответствующими буквами.

Ответ:

А	Б	В	Г	Д

Правильный ответ:

А	Б	В	Г	Д
1	2	2	1	2

7. Установите соответствие между признаками и видами (типами) культуры: к каждому признаку, обозначенному буквой, подберите соответствующую позицию, обозначенную цифрой.

ПРИЗНАКИ

- А) ярко выраженная коммерческая направленность
- Б) сложность содержания
- В) преимущественно развлекательный характер
- Г) многообразие форм
- Д) ориентация на стандартные вкусы и предпочтения потребителя

ВИДЫ (ТИПЫ) КУЛЬТУРЫ

- 1) только массовая
- 2) только элитарная
- 3) и массовая, и элитарная

Запишите в таблицу выбранные цифры под соответствующими буквами.

Ответ:

А	Б	В	Г	Д

Правильный ответ:

А	Б	В	Г	Д
1	2	1	3	1

Установите соответствие и впишите ответ.

8. Установите соответствие между признаками и типами обществ: к каждому признаку, обозначенному буквой, подберите соответствующую позицию, обозначенную цифрой:

ПРИЗНАКИ

- А) господство натурального хозяйства
- Б) низкий уровень социальной мобильности
- В) наличие условий для непрерывного образования
- Г) появление массовой культуры
- Д) механизация производства

ТИПЫ ОБЩЕСТВ

- 1) традиционное (аграрное) общество
- 2) индустриальное общество
- 3) постиндустриальное (информационное) общество

Запишите в таблицу выбранные цифры под соответствующими буквами.

Ответ:

А	Б	В	Г	Д

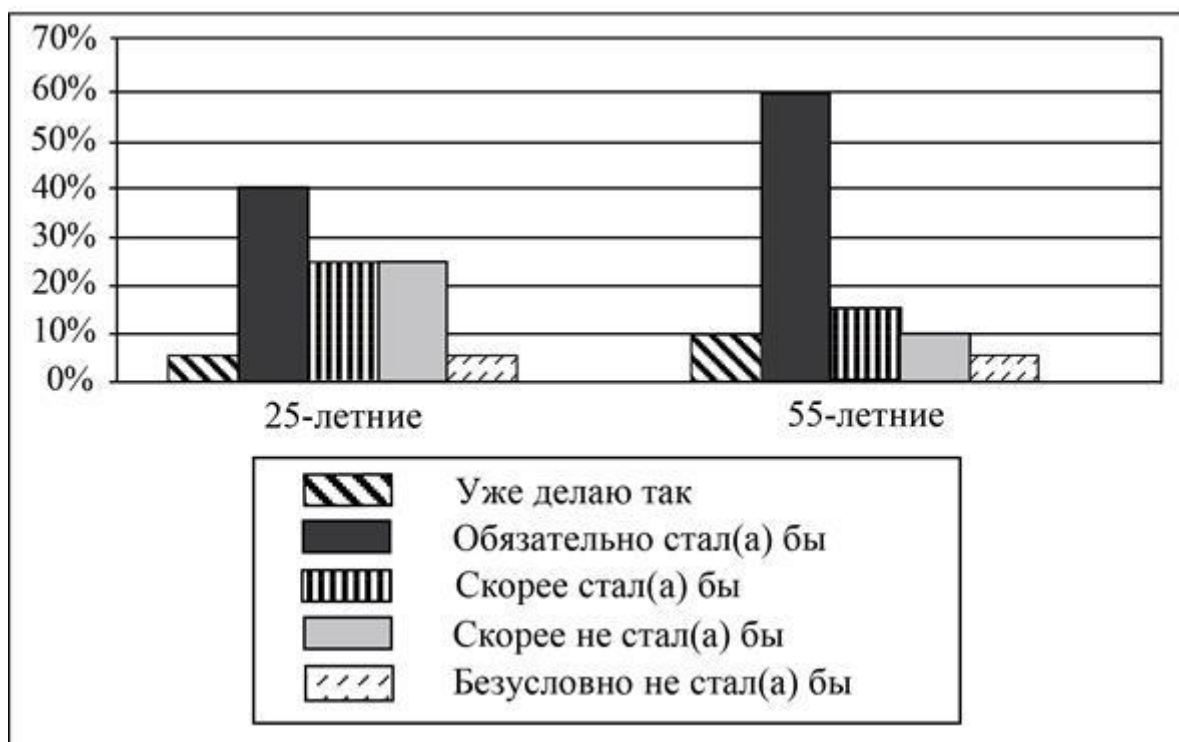
Правильный ответ:

А	Б	В	Г	Д
1	1	3	2	2

9. Выберите один или несколько правильных ответов.

В ходе социологического опроса 25-летних и 55-летних граждан им был задан вопрос: «Один из экологически целесообразных способов переработки мусора предполагает сортировку бытовых отходов. Если бы у Вас была возможность выбрасывать каждый вид мусора в отдельный контейнер, стали бы Вы сортировать Ваш мусор?»

Результаты опросов (в % от числа отвечавших) приведены на диаграмме.



Найдите в приведённом списке выводы, которые можно сделать на основе диаграммы, и запишите цифры, под которыми они указаны.

- 1) Доля тех, кто уже сортирует мусор, среди 25-летних больше, чем среди 55-летних.
- 2) Среди 55-летних тех, кто обязательно стал бы сортировать мусор, больше, чем тех, кто не стал бы этого делать.
- 3) Равные доли 55-летних считают, что скорее стали бы сортировать мусор и что скорее не стали бы этого делать.
- 4) Равные доли опрошенных каждой группы считают, что они безусловно не стали бы сортировать мусор.
- 5) Среди 25-летних наименее популярен ответ: «Обязательно стал(а) бы сортировать мусор».

Ответ: ...

Правильный ответ: 1, 4

10. Установите соответствие между характеристиками и видами (формами) деятельности: к каждой позиции, данной в первом столбце, подберите соответствующую позицию из второго столбца.

ХАРАКТЕРИСТИКИ

- А) направленность на достижение практически полезного результата
- Б) нацеленность прежде всего на приобретение новых знаний и умений

- В) нацеленность прежде всего на обмен информацией
 Г) как правило, предполагает некоторую воображаемую обстановку в качестве необходимого условия
 Д) процесс установления и развития контактов между людьми

ВИДЫ (ФОРМЫ) ДЕЯТЕЛЬНОСТИ

- 1) игра
- 2) труд
- 3) учёба
- 4) общение

Запишите в таблицу выбранные цифры под соответствующими буквами.

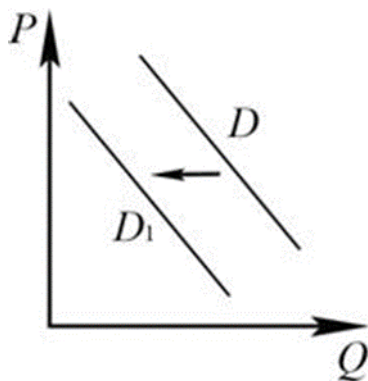
Ответ:

А	Б	В	Г	Д

Правильный ответ:

А	Б	В	Г	Д
2	3	4	1	4

11. Выберите один или несколько правильных ответов.



На рисунке отражено изменение спроса на квартиры в многоквартирных домах на соответствующем рынке: линия спроса D переместилась в новое положение – D_1 . (P – цена; Q – количество.)

Какие из перечисленных факторов могут вызвать такое изменение? Запишите цифры, под которыми они указаны.

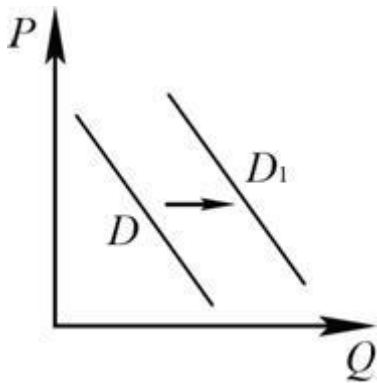
- 1) повышение процентов по ипотечным кредитам
- 2) сокращение государственных субсидий для строительных фирм
- 3) внедрение новых, высокопроизводительных строительных технологий
- 4) уменьшение числа желающих приобрести квартиры в многоквартирных домах

5) сокращение доходов большинства населения

Ответ: ...

Правильный ответ: 1, 4, 5

12. Выберите один или несколько правильных ответов.



На рисунке отражено изменение спроса на услуги автосервисов на соответствующем рынке: линия спроса D переместилась в новое положение – D_1 . (P – цена; Q – количество.)

Какие из перечисленных факторов могут вызвать такое изменение?

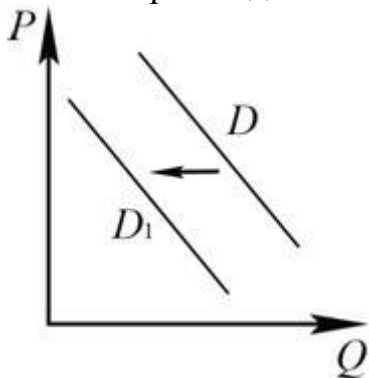
Запишите цифры, под которыми они указаны.

- 1) рост числа владельцев автомобилей
- 2) рост предпочтений обращаться в автосервис, а не ремонтировать автомобиль самостоятельно
- 3) сокращение доходов целевой группы населения
- 4) рост оплаты труда работников автосервисов
- 5) увеличение стоимости аренды помещений автосервисов

Ответ: ...

Правильный ответ: 1, 2

13. Выберите один или несколько правильных ответов.



На рисунке отражено изменение спроса на молотый кофе на соответствующем рынке: линия спроса D переместилась в новое положение – $D1$. (P – цена; Q – количество.)

Какие из перечисленных факторов могут вызвать такое изменение? Запишите цифры, под которыми они указаны.

- 1) появление большого количества подделок молотого кофе
- 2) снижение таможенных пошлин на ввоз молотого кофе
- 3) существенное увеличение количества фирм – поставщиков кофе
- 4) появление новой информации о пользе молотого кофе
- 5) снижение качества молотого кофе

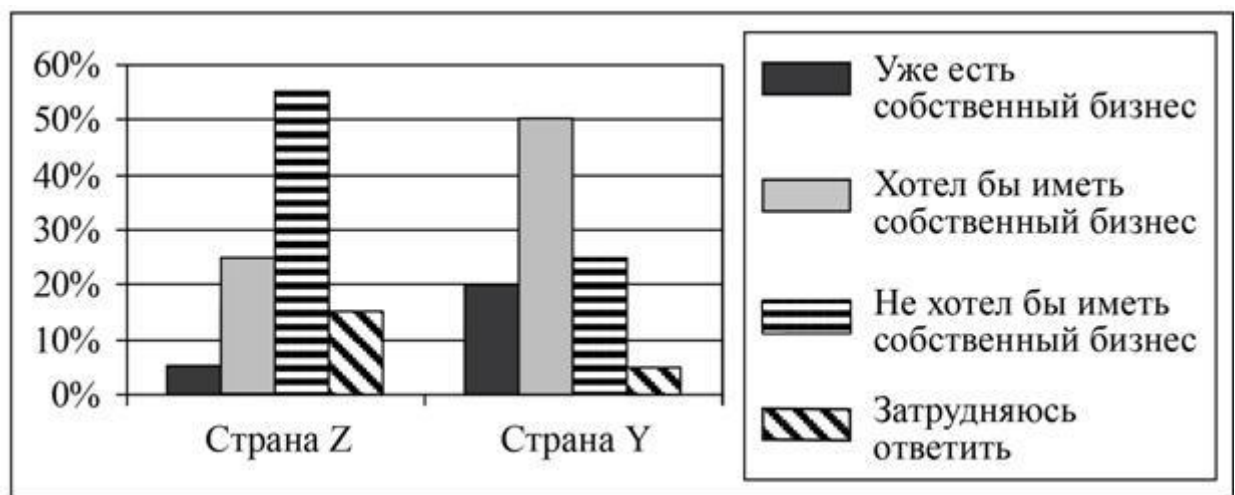
Ответ: ...

Правильный ответ: 1, 5

14. Выберите один или несколько правильных ответов.

В ходе социологических опросов совершеннолетних жителей стран Z и Y им задавали вопрос: «Вы в принципе хотели бы иметь собственный бизнес в стране своего проживания?»

Результаты опросов (в % от числа отвечавших) приведены на диаграмме.



Найдите в приведённом списке выводы, которые можно сделать на основе диаграммы, и запишите цифры, под которыми они указаны.

- 1) Равные доли опрошенных в каждой стране хотели бы иметь собственный бизнес.

- 2) В стране Z доля тех, кто хотел бы иметь собственный бизнес, больше доли тех, у кого уже есть собственный бизнес.
- 3) В стране Y доля тех, кто затруднился ответить, больше доли тех, кто не хотел бы иметь собственный бизнес.
- 4) Более половины респондентов в стране Z не хотели бы иметь собственный бизнес.
- 5) Доля тех, у кого уже есть собственный бизнес, в стране Z больше, чем в стране Y.

Ответ: ...

Правильный ответ: 2, 4

15. Ниже приведён перечень примеров издержек фирмы в краткосрочном периоде. Все они, за исключением двух, являются постоянными издержками.

- 1) плата за охрану помещения; 2) страховые взносы; 3) плата за аренду помещения; 4) сдельная зарплата рабочих; 5) плата за транспортные услуги. 6) оклады администрации.

Найдите два примера, «выпадающих» из общего ряда, и запишите в таблицу цифры, под которыми они указаны.

Ответ: ...

Правильный ответ: 4, 5

16. Ниже приведён перечень терминов. Все они, за исключением двух, характеризуют понятие «этнос».

- 1) политический режим; 2) историческая память; 3) малая группа; 4) национальное самосознание; 5) народность; 6) культурные традиции.

Найдите два термина, «выпадающих» из общего ряда, и запишите в таблицу цифры, под которыми они указаны.

Ответ: ...

Правильный ответ: 1, 3

17. Выберите верные суждения о социальных нормах и запишите цифры, под которыми они указаны.

- 1) Социальные нормы отражают модели должного поведения.
- 2) Корпоративные нормы обеспечиваются мерами, предусмотренными организациями.

- 3) Порядок применения правовых норм отличается от порядка применения норм морали.
- 4) Все социальные нормы санкционируются государством.
- 5) Этические нормы всегда отражаются в политических принципах.

Ответ:...

Правильный ответ: 1, 2, 3

18.

Выберите верные суждения о социальных конфликтах и запишите цифры, под которыми они указаны.

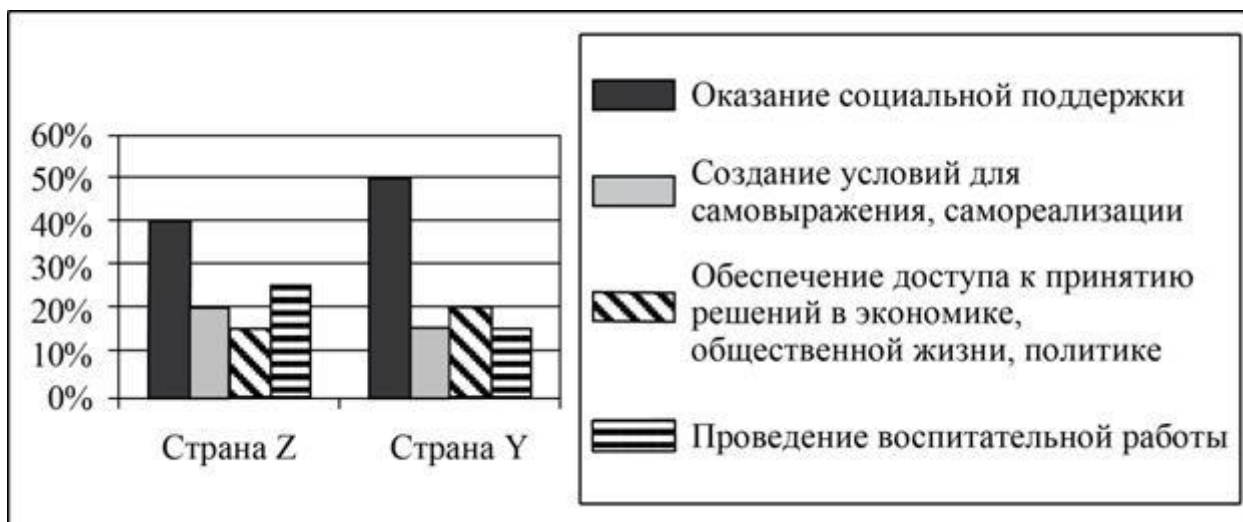
- 1) Социальный конфликт – это столкновение социальных групп за обладание дефицитными ресурсами.
- 2) Предметом социального конфликта являются его участники.
- 3) К условиям успешного разрешения социальных конфликтов относят выявление существующих противоречий в интересах и целях сторон.
- 4) Непонимание сущности причин, вызывающих социальный конфликт, может привести к увеличению его масштабов.
- 5) Все социальные конфликты оказывают дезинтегративное, разрушительное влияние на общественную жизнь.

Ответ: ...

Правильный ответ: 1, 3, 4

19. В ходе социологических опросов совершеннолетних жителей стран Z и Y им задавали вопрос: «Какое из направлений молодёжной политики государства Вы считаете наиболее важным?»

Результаты опросов (в % от числа отвечавших) приведены на диаграмме.



Найдите в приведённом списке выводы, которые можно сделать на основе диаграммы, и запишите цифры, под которыми они указаны.

- 1) Доля тех, кто считает наиболее важным оказание социальной поддержки, в стране Z больше, чем в стране Y.
- 2) В стране Z мнение о важности проведения воспитательной работы с подрастающим поколением более популярно, чем мнение о важности обеспечения доступа к принятию решений в экономике, общественной жизни, политике.
- 3) В стране Y равные доли опрошенных отмечают важность создания условий для самовыражения, самореализации и проведения воспитательной работы.
- 4) Доля тех, кто отмечает важность обеспечения доступа к принятию решений в экономике, общественной жизни, политике, в стране Z больше, чем в стране Y.
- 5) Равные доли опрошенных в каждой стране считают необходимым проведение воспитательной работы.

Ответ: ...

Правильный ответ: 2, 3

20. Выберите один или несколько правильных ответов.

Выберите верные суждения о социализации и запишите цифры, под которыми они указаны.

- 1) Социализация индивида проходит как в стихийной, так и в организованной форме.
- 2) Первичную социализацию осуществляют государство, СМИ и другие социальные институты.
- 3) Социальные институты позволяют человеку усвоить социальные ценности, нормы, роли.
- 4) В процессе социализации человек становится личностью.
- 5) Все агенты социализации входят в ближайшее окружение человека.

Ответ: ...

Правильный ответ: 1, 3, 4

21. Что из перечисленного относится к личным (гражданским) правам (свободам) гражданина РФ? Запишите цифры, под которыми они указаны.

- 1) право на неприкосновенность частной жизни
- 2) право на труд в условиях, отвечающих требованиям безопасности и гигиены
- 3) право на тайну переписки, телефонных переговоров

- 4) свобода предпринимательской деятельности
- 5) свобода совести и вероисповедания

Ответ: ...

Правильный ответ: 1, 3, 5

22. Выберите в приведённом списке положения, характеризующие социально-экономические права (свободы) гражданина Российской Федерации. Запишите цифры, под которыми они указаны.

- 1) Каждый вправе иметь имущество в собственности, владеть, пользоваться и распоряжаться им как единолично, так и совместно с другими лицами.
- 2) Каждый имеет право на свободу совести и вероисповедания.
- 3) Труд свободен. Каждый имеет право свободно распоряжаться своими способностями к труду, выбирать род деятельности и профессию.
- 4) Достоинство личности охраняется государством. Ничто не может быть основанием для его умаления.
- 5) Граждане Российской Федерации имеют право собираться мирно, без оружия, проводить собрания, митинги и демонстрации, шествия и пикетирование.

Ответ: ...

Правильный ответ: 1, 3

23. Выберите в приведённом списке положения, характеризующие основы конституционного строя РФ, и запишите цифры, под которыми они указаны.

- 1) Носителем суверенитета и единственным источником власти в РФ является её многонациональный народ.
- 2) Для заключения брака в РФ необходимы взаимное добровольное согласие мужчины и женщины, вступающих в брак, и достижение ими брачного возраста.
- 3) В Российской Федерации признаётся и гарантируется местное самоуправление.
- 4) Органы законодательной, исполнительной и судебной властей самостоятельны.
- 5) Ребёнок имеет право на общение с обоими родителями, дедушками, бабушками, братьями, сёстрами и другими родственниками.

Ответ: ...

Правильный ответ: 1, 3, 4

24. Согласно Конституции РФ наша страна является социальным государством. Выберите в приведённом списке черты, характеризующие социальное государство, и запишите цифры, под которыми они указаны.

- 1) отделение религиозных объединений от государства
- 2) признание свободы совести, свободы вероисповедания
- 3) установление гарантированного минимального размера оплаты труда
- 4) создание условий, обеспечивающих гражданам РФ достойную жизнь
- 5) обеспечение государственной поддержки семьи

Ответ: ...

Правильный ответ: 3, 4, 5

25. Установите соответствие между субъектами и участниками уголовного судопроизводства (согласно Уголовно-процессуальному кодексу Российской Федерации): к каждой позиции, данной в первом столбце, подберите соответствующую позицию из второго столбца.

СУБЪЕКТЫ

- А) эксперт
- Б) прокурор
- В) обвиняемый
- Г) следователь
- Д) свидетель

УЧАСТНИКИ УГОЛОВНОГО СУДОПРОИЗВОДСТВА

- 1) сторона защиты
- 2) сторона обвинения
- 3) иные участники

Запишите в таблицу выбранные цифры под соответствующими буквами.

Ответ:

А	Б	В	Г	Д

Правильный ответ

А	Б	В	Г	Д
3	2	1	2	3